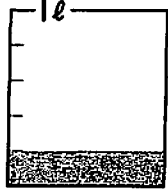




名
前

4年 全校テスト (2月 算数)

1. 水のかさは何ℓですか。分数で書きましょう。


①  () ℓ

②  () ℓ

③  () ℓ

2. 次の長さやかさを書きましょう。

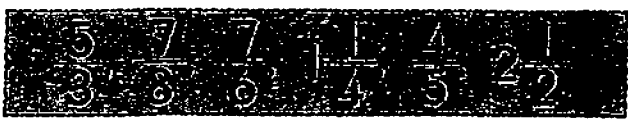
- ① $\frac{1}{6}m$ の5こ分の長さ..... () m
- ② $\frac{1}{4}m$ の7こ分の長さ..... () m
- ③ $\frac{1}{9}ℓ$ の2こ分のかさ..... () ℓ



3. ㊦, ㊧のめもりが表す数はいくつですか。分数で書きましょう。



4. 次の分数を、真分数、仮分数、帯分数に分けましょう。



真分数 () 仮分数 () 帯分数 ()

5. 仮分数は帯分数か整数に、帯分数は仮分数になおしましょう。

- ① $\frac{7}{2}$ ② $\frac{12}{3}$ ③ $1\frac{5}{7}$ ④ $2\frac{1}{4}$
- () () () ()

6. まわりの長さが22cmの長方形があります。

① たてと横の長さを調べて、下の表にまとめましょう。

たて (cm)	1	2	3	4	5	6	7
横 (cm)	10						

② たてと横の長さには、どんなかんけいがあるでしょう。□にあてはまることばを書きましょう。

+ = 11 (cm)

③ たての長さが10cmのとき、横の長さは () 何cmでしょう。

7. ひろみさんのはんで、ねことハムスターを飼っている人を調べました。

ねことハムスターを飼っている人調べ (人)

		ハムスター	
		かっている	かっていない
ねこ	かっている	1	1
	かっていない	5	3

① ハムスターだけ飼っている人は何人でしょう。 ()

② ハムスターもねこも飼っている人は何人でしょう。 ()