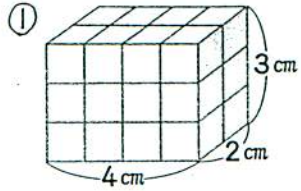


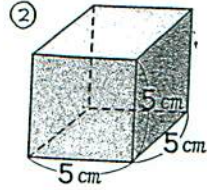
全校テスト 6年 10月

① 次の立体の体積を求めましょう。



式,

答え,



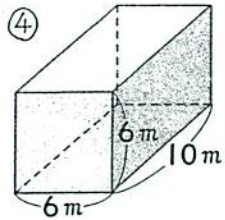
式

答え,

③ 縦<sup>たて</sup>2 cm, 横5 cm, 高さ4 cmの直方体の体積

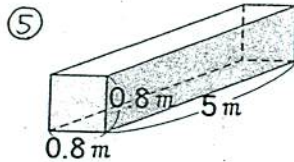
式,

答え,



式,

答え,



式,

答え,

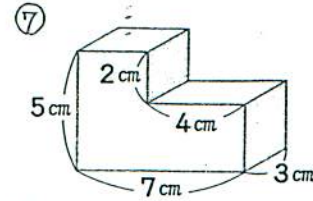
⑥ 縦2 m, 横3.5 m, 高さ4.2 mの直方体の体積

式,

答え,

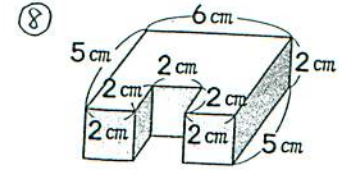
月 日 ( ) 回目

名前



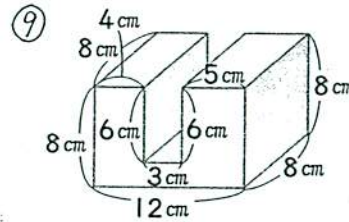
式

答え,



式

答え,



式

答え,

② 1辺が10 cmの立方体があります。この立方体と体積が等しい、縦25 cm, 横8 cmの直方体の高さは何 cm ですか。

式

答え,