

4年 全校テスト(10月 算数)

名前

1. □にあてはまる数をかきましょう。

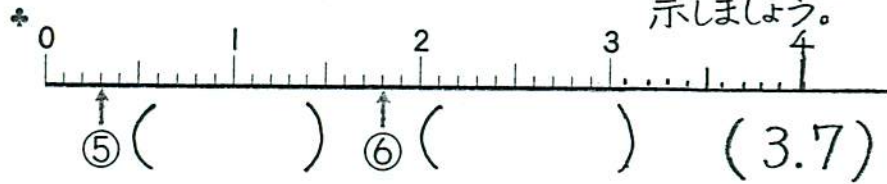
① 0.1を9こ集めた数は□です。

② 0.1を24こ集めた数は□です。

③ 5.6は、1を5こ、0.1を□こあわせた数です。

④ 4.7は、0.1を□こ集めた数です。

2. ⑤、⑥にあたる小数をかきましょう。また、3.7を↑で示しましょう。



3. 小数の計算を筆算でしましょう。

$$\begin{array}{r} 5.2 \\ +1.9 \\ \hline \end{array}$$

$$\begin{array}{r} 9 \\ +7.6 \\ \hline \end{array}$$

$$\begin{array}{r} 4.2 \\ -1.5 \\ \hline \end{array}$$

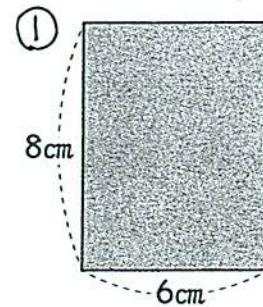
$$\begin{array}{r} 9.1 \\ -8.3 \\ \hline \end{array}$$

4. 絵の具のねだんは600円で、これはノートのねだんの4倍です。また、ノートのねだんは、えんぴつのねだんの2倍です。えんぴつのねだんは何円ですか。

(式)

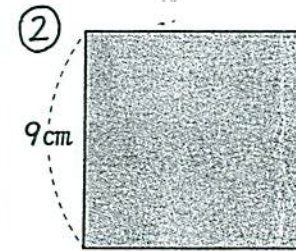
()

5. 下の図形の面積は何 cm^2 ですか。



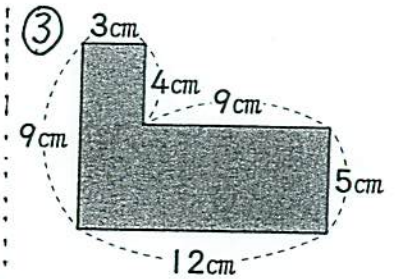
(式)

()



(式)

()



(式)

()

6. 長方形の面積をもとめる公式は、

長方形の面積 = □ × □ です。