

4年

算数

10月

全校テスト

4年 組

名前

得点

100点満点

1. 次の計算をしなさい。

- ① $0.3 + 0.1$
 ② $0.6 + 0.4$
 ③ $0.2 - 0.1$
 ④ $1 - 0.3$
 ⑤ $2.9 + 0.5$
 ⑥ $0.7 + 0.4$
 ⑦ $6.4 - 0.9$
 ⑧ $0.7 + 0.4$
 ⑨ $6.4 - 0.9$
 ⑩ $4.3 - 0.3$

2. 次の計算を筆算でしなさい。

- ① $5.3 + 1.4$ ② $3.2 + 1.5$
 ③ $4.8 + 4.9$ ④ $7.7 + 2.8$

⑤ $5 + 2.3$

⑥ $4.7 + 2$

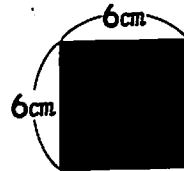
⑦ $3.7 + 4.3$

⑧ $6.2 + 3.8$

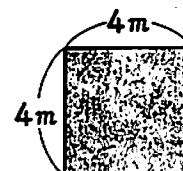
⑨ $9.6 - 2.4$

⑩ $7.4 - 5.8$

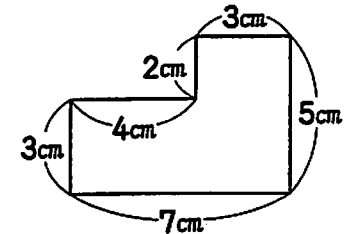
3. 次の図形の面積を求めましょう。



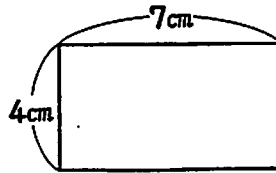
()



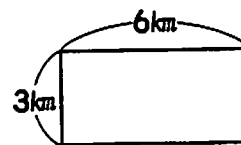
()



()



()



()