


ぜんこうですと(6がう) (

1. いくつと いくつですか。

①  5は 2と

②  6は 4と

③ 10は 7と ④ 10は 2と

2. □にあう かずをかきましょう。

① 1 — 2 — — 4 — 5

② 10 — 9 — 8 — — 6

3. いろをぬりましょう。


① まえから 3びき。




② まえから 4ばんめ。



) 4. とりのかずをかきましょう。

① 

② 

5 ① $1 + 4 = \square$

② $3 + 3 = \square$

③ $4 + 2 = \square$

④ $2 + 6 = \square$

⑤ $7 + 2 = \square$

⑥ $9 + 1 = \square$

⑦ あかい くるまが 2だい、あおい くるまが 5だい あります。あわせて なんだいですか。
(しき) (しきとこたえて2だい)



こたえ()

⑧ こどもが 6にん います。3にん くと、みんなて なんにんに なりますか。(しきとこたえて2だい)
(しき)

こたえ()