

1. □にはいる かずをかきましょう。

• 16 — 17 — <sup>①</sup> □ — 19 — <sup>②</sup> □

• 15 — <sup>③</sup> □ — 13 — 12 — <sup>④</sup> □

⑤ 10と 6で □

⑥ 10と 10で □


⑦ 17は 10と □

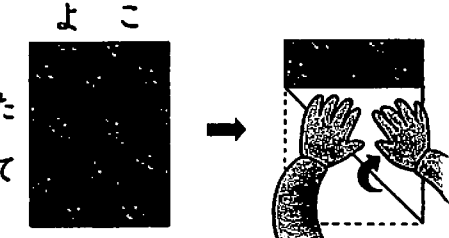
⑧ 18は 10と □

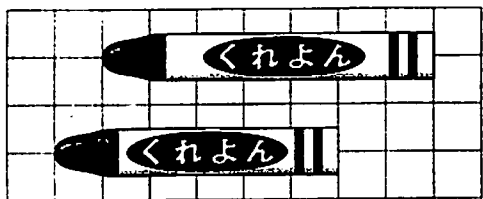
⑨  $10 + 2 =$  □


⑩  $19 - 9 =$  □

2. ながい ほうに ○をつけましょう。

①  ( )  
 ( )

②  たて ( )  
 よこ ( )

③  ( )  
 ( )

④  ( )  
 ( )

3. けいさん

①  $1 + 3 + 2$

②  $4 + 6 + 4$

③  $4 - 1 - 2$

④  $13 - 3 - 7$

⑤  $6 - 1 + 2$

⑥  $10 - 8 + 4$

⑦  $1 + 5 - 2$

⑧  $9 + 1 - 6$